

HODINY S RUČIČKAMI

Hodiny a minuty

1. Zopakuj si celé hodiny a půlhodiny:



2. Čtvrt hodiny (velká ručička je na trojce):



Tři čtvrtě hodiny (velká ručička na devítce):




3. Hodiny a minuty:

JEDNOTKY ČASU

1 hodina – 1 h
1 minuta – 1 min
1 sekunda – 1 s

1 h = 60 min
1 min = 60 s



1 hodina a 5 minut




1 hodina a 12 minut



1 hodina a 40 minut

4. Římské číslice na hodinách:

1	2	3	4	5	6
I	II	III	IV	V	VI
7	8	9	10	11	12
VII	VIII	IX	X	XI	XII



HODINY DIGITÁLNÍ

Hodiny a minuty

1. Přečti, kolik je hodin – čti a určuj podle vzoru:

Tři hodiny a patnáct minut → čtvrt na čtyři



2. a) Hledej, který digitální čas odpovídá ručičkovým hodinám.
b) Uveď, které časy ručičkových hodin chybějí na digitálních hodinách:


1 2 3 4 5 6

a b c d e

3. Sleduj tabulku časů, které vypadají na hodinách s ručičkou stejně:

1h	2h	3h	4h	5h	6h	7h	8h	9h	10h	11h	12h
↓	↓	↓	↓	↓	↓	↓	↓	↓	↓	↓	↓
13h	14h	15h	16h	17h	18h	19h	20h	21h	22h	23h	24h

4. Říkej, kolik hodin to může být:



5. Ukaž, který čas odpovídá pravému poledni a který půlnoci:

